



LND DECEMBER 2019

NAME STUDENT: _____

ROLL NO. _____

CLASS 3 :

SCHOOL IMIS CODE: _____

SCHOOL NAME: _____

PART ENGLISH MARKS :30

WRITE CAPITAL AND SMALL LETTER		:CIRCLE THE CORRECT ALPHABETICAL ORDER			
M		JUG - IRON - POT	POT - IRON - JUG	IRON - POT - JUG	
d		APPLE - EGG - FISH	EGG -APPLE - FISH	FISH - APPLE -EGG	
R		HORSE - GOAT - YOLK	YOLK-GOAT -HORSE	GOAT -HORSE-YALK	
n		NOSE - EYE -TEETH	EYE- TEETH - NOSE	EYE - NOSE -TEETH	

Discribe action verb .

								
Washing	Polishing	Sitting	Playing	Cleaning	reading	Drinking	Writing	sleeping

USE OF IS, ARE, AM			
HE ----- a Teacher.	IS	ARE	AM
YOU ----- a Good student.	IS	ARE	AM
She ----- Sad .	IS	ARE	AM
I ----- many books.	HAS	HAVE	HIS
Zain ----- a new car.	HAS	HAVE	HER

USE OF A , AN		
CAT	A	AN
HEN	A	AN
IRON	A	AN
KITE	A	AN
ORANGE	A	AN

CIRCLE THE PROPER NOUN		
SCHOOL	QURAN	CLASS
PAKISTAN	BOY	ISLAM

CIRCLE THE COUNTABLE NOUN		
AIR	DESK	HAIR
DOORS	STUDENTS	STARS

READ THE PARAGRAPH AND GIVE ANSWER .

I see a parrot. Its colour is green. It has a red apple.

WHAT I SEE ?

ANS:

WHAT IS THE COLOUR OF PARROT ?




ANS:





















WHAT IS THE COLOUR OF APPLE ?

ANS:

PART MATH MARKS 20 حصہ ریاضی

ADD THE NUMBERS جمع کریں			SUBTRACT THE NUMBERS منفی کریں		
689 + 999	826 + 203	6221 + 3382	852 - 575	986 - 687	4259 - 2547
DEVIDE THE NUMBERS تقسیم کریں			MULTIPLY NUMBERS ضرب دیں		
35 ÷ 7	90 ÷ 10	130 ÷ 13	8 × 7	12 × 10	15 × 4

مقامی قیمت معلوم کریں			صحیح وقت پر دائرہ لگائیں		
5468 میں سے 4 کی مقامی قیمت معلوم کریں					
40	400	4000	2:15	3:10	2:03
9865 میں سے 9 کی مقامی قیمت معلوم کریں			12:35	1:07	7:01
90	900	9000	12:00	11:00	1:00

SOLVE FRACTION						فریکشن حل کریں				
										
										
$\frac{2}{4}$	$\frac{3}{4}$	$\frac{4}{4}$	$\frac{2}{6}$	$\frac{4}{6}$	$\frac{6}{6}$	$\frac{4}{10}$	$\frac{6}{10}$	$\frac{8}{10}$		

حصہ اردو: PART URDU MARKS:

توڑ کے جوڑ کریں					جوڑ کے توڑ کریں				
	ے	ڑ	ک	ٹ					سکول
	ر	ج	ا	ت					گو بھی
	ی	ب	ا	چ					ہرن

اسم کی پہچان کریں				فعل کی پہچان کریں			
اکرم نے سبق پڑھا	سبق	اکرم	پڑھا	عمر نے کرکٹ کھیلی	عمر	کرکٹ	کھیلی
حرانے کھانا کھایا	کھایا	کھانا	حرا	سارہ نے پانی پیا	سارہ	پانی	پیا
یہ کتاب کس کی ہے	کتاب	یہ	کس	عمران نے کھانا کھایا	عمران	کھانا	کھایا
چیرا پڑھ کر جواب دیں				رموز او قاف			
انور پانچویں جماعت میں پڑھتا ہے اس کے دو بھائی اور ایک بہن ہے				صحیح علامت پر دائرہ لگائیں			
انور کونسی جماعت میں پڑھتا ہے؟ جواب۔				ختمہ			
اس کے کتنے بھائی ہیں؟ جواب۔				سکتہ			
اس کی کتنی بہنیں ہیں؟ جواب۔				وقفہ			